

Matemàtiques orientades a les ensenyances
acadèmiques:

3º B d'ESO. Capítol 5: Equacions i sistemes

Propiedad Intelectual

El presente documento se encuentra depositado en el registro de Propiedad Intelectual de Digital Media Rights con ID de obra AAA-0181-02-AAA-039136

Fecha y hora de registro: 2014-04-07 18:20:55.0

Licencia de distribución: CC by-nc-sa



Queda prohibido el uso del presente documento y sus contenidos para fines que excedan los límites establecidos por la licencia de distribución.

Más información en <http://www.dmrighs.com>



www.apuntesmareaverde.org.es



Autora: Raquel Hernández

Revisors: Sergio Hernández i María Molero

Il·lustracions: Raquel Hernández i Banc d'Imatges d'INTEF

**Traducció al valencià: Pedro Podadera IES Juan de
Garay**

Índex

1. EQUACIONS DE PRIMER GRAU

- 1.1. EL LLENGUATGE DE LES EQUACIONS
- 1.2. EQUACIONS EQUIVALENTS. RESOLUCIÓ D'EQUACIONS

2. EQUACIONS DE 2n GRAU

- 2.1. CONCEPTE D'EQUACIÓ DE 2n GRAU
- 2.2. RESOLUCIÓ D'EQUACIONS DE 2n GRAU COMPLETES
- 2.3. NOMBRE DE SOLUCIONS D'UNA EQUACIÓ DE 2n GRAU COMPLETA
- 2.4. RESOLUCIÓ D'EQUACIONS DE 2n GRAU INCOMPLETES
- 2.5. SUMA I PRODUCTE DE LES ARRELS
- 2.6. RESOLUCIÓ D'EQUACIONS SENZILLES DE GRAU SUPERIOR A DOS

3. SISTEMES D'EQUACIONS LINEALS

- 3.1. CONCEPTE DE SISTEMES D'EQUACIONS LINEALS
- 3.2. CLASSIFICACIÓ DE SISTEMES D'EQUACIONS
- 3.3. RESOLUCIÓ DE SISTEMES PEL MÈTODE DE SUBSTITUCIÓ
- 3.4. RESOLUCIÓ DE SISTEMES PEL MÈTODE D'IGUALACIÓ
- 3.5. RESOLUCIÓ DE SISTEMES PEL MÈTODE DE REDUCCIÓ

4. RESOLUCIÓ DE PROBLEMES

- 4.1. RESOLUCIÓ DE PROBLEMES MITJANÇANT EQUACIONS DE PRIMER GRAU
- 4.2. RESOLUCIÓ DE PROBLEMES MITJANÇANT EQUACIONS DE 2º GRAU
- 4.3. RESOLUCIÓ DE PROBLEMES MITJANÇANT SISTEMES D'EQUACIONS LINEALS

Resum

Ja saps resoldre algunes equacions de segon grau. Si l'àrea d'un quadrat és 4 coneixes que el seu costat és 2, i si l'àrea és 9, coneixes que el costat mesura 3.

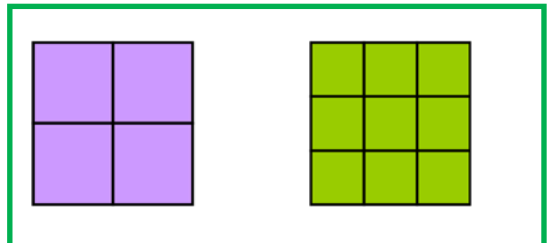
Saps resoldre $x^2 = 4$, les solucions del qual són 2 i -2 , perquè $(2)^2=4$, i $(-2)^2 = 4$.

Per a resoldre $(x - 3) \cdot (x + 4) = 0$, observes que les solucions

són 3 i -4 perquè $(3-3) \cdot (3+4) = 0$, i $((-4)-3) \cdot ((-4) + 4) = 0$.

En aquest capítol aprendrem a resoldre les equacions de segon grau, ja siguin completes o incompletes, i a utilitzar allò que s'ha après per a resoldre problemes de la vida quotidiana per mitjà de les equacions.

Veurem a més què són els sistemes d'equacions lineals, com es resolen per diferents mètodes i la seua aplicació per a resoldre problemes que ens rodegen.

**Recorda**

Si el producte de dos factors és zero, un dels factors ha de ser zero.

Per tant a l'equació:

$$(x + 4) \cdot (x - 3) = 0$$

o bé $x + 4 = 0$ o bé $x - 3 = 0$, per tant

1. EQUACIONS DE PRIMER GRAU

1.1. El llenguatge de les equacions

Ja saps que:

Una **equació** és una igualtat entre dues expressions algebraiques.

Exemple:

- Si tenim dues expressions algebraiques: $7x + 3$ i $5x + 2$, i les unim amb el signe igual obtenim una equació: $7x + 3 = 5x + 2$.

Les expressions que hi ha a cada costat de l'igual s'anomenen **membres** de l'equació. Totes les equacions tenen dos membres: l'expressió que està a l'esquerra del signe igual s'anomena **primer membre** i la que està a la dreta, **segon membre**.

Les lletres que contenen les equacions algebraiques (les "parts literals" de les seues dues expressions) s'anomenen **incògnites**, que vol dir literalment "desconegudes". Si totes les lletres són iguals, es diu que l'equació té només una incògnita.

Exemple:

- $8x - 2 = 4x + 7$ és una equació amb una sola incògnita, mentres que
- $3x + y = 5$ o $5x - 9 = 3y$ són equacions amb dues incògnites: x i y .

El **grau** d'una equació és el major exponent que apareix en alguna de les seues incògnites.

Exemple:

- $8x - 2 = 4x + 7$ és una equació de primer grau, mentres que $2x + 4xy^2 = 1$ és una equació de tercer grau ja que el monomi $5xy^2$ té grau 3 ($1 + 2 = 3$).

Activitats proposades

1. Còpia al teu quadern la següent taula i completa-la:

Equació	Primer membre	Segon membre	Incògnites
$8x - 1 = 4x - 7$			
	$5x + 9$	$3x - 1$	
$2a + 3 = 32$			
	$2x - 5y$	$5 + 4y$	

2. Indica el nombre d'incògnites de les equacions següents:

- a) $4x - 5y = 7x + 6$; b) $2x + 8y^2 = 5$ c) $3a + 6a^2 = 3$ d) $4x + 8x^2 = 12$.

3. Indica el grau de les equacions següents:

- a) $2x - 4 = 6x + 8$; b) $3x + 9y^2 = 12$ c) $5x + 10x^2 = 30$ d) $2x + 2xy^2 = 3$

1.2. Equacions equivalents. Resolució d'equacions

Ja saps que:

Una **solució** d'una equació és un nombre que, quan la incògnita pren aqueix valor, es verifica la igualtat, és a dir, els dos termes de l'equació valen el mateix.

Algunes equacions només tenen una solució, però altres poden tindre diverses.

Resoldre una equació és trobar totes les seues possibles solucions numèriques.

Per a resoldre una equació el que es fa habitualment és transformar-la en una altra **equació equivalent** més senzilla.

Equacions equivalents són les que tenen les mateixes solucions.

Exemple:

- $2x - 9 = 15$ és equivalent a $2x = 24$, ja que la solució d'ambdues equacions és $x = 12$.

Per a obtindre equacions equivalents es tenen en compte les propietats següents:

Si es **suma** o es **resta** als dos membres d'una equació una mateixa quantitat, s'obté una equació equivalent.

Si es **multipliquen** o **divideixen** els dos membres d'una equació per una mateixa quantitat (diferent de zero), s'obté una equació equivalent.

Activitats resoltes

- Resol l'equació $5x + 7 = x - 3$ transformant-la en una altra més senzilla equivalent.

Transformar una equació fins que les seues solucions es facen evidents s'anomena "resoldre l'equació". Seguint aquests passos intentarem resoldre l'equació: $5x + 7 = x - 5$.

1) Sumem els dos membres $-x$ i restem als dos membres 7: $5x - x + 7 - 7 = x - x - 5 - 7$.

2) Fem operacions i aconseguim una altra equació que té al primer membre els termes amb x i al segon, els termes sense x : $5x - x = -5 - 7$.

3) Efectuem les sumes al primer membre i al segon: $4x = -12$.

4) Aillem x dividint els dos membres per 4: $\frac{4x}{4} = \frac{-12}{4}$ d'on $x = -3$.

5) Comprova que totes les equacions que hem obtingut en aquest procés són equivalents i que la seua solució és $x = -3$.

El procediment utilitzat en les activitats és un mètode universal per a **resoldre** qualsevol equació de grau 1, és a dir, on x apareix sense elevar a un altre exponent com en x^2 . Les equacions de primer grau tenen sempre una única solució, però en general, les solucions no tenen perquè ser nombres enters com als exemples.

Activitats proposades

4. Resol les equacions següents: a) $2x - 3 = 4x - 5$ b) $3x + 6 = 9x - 12$ c) $4x + 8 = 12$

2. EQUACIONS DE 2n GRAU

Hi ha equacions de segon grau que ja saps resoldre. En aquest capítol anem a aprofundir i a aprendre a resoldre aquest tipus d'equacions. Per exemple, el següent problema ja saps resoldre'l:

Activitats resoltes

- S'augmenta el costat d'un taulell quadrat en 3 cm i la seua àrea ha quedat multiplicada per 4, Quin costat tenia el taulell?

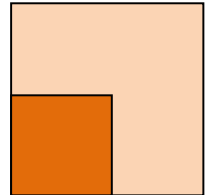
Plantegem l'equació:

$$(x + 3)^2 = 4x^2$$

Aquesta equació si saps resoldre-la! $x + 3 = 2x$, doncs el costat és de 3 cm.

Hi ha una altra solució, $x = -1$, que no té sentit com a costat d'un quadrat.

Estudiarem de forma ordenada aquestes equacions.



2.1. Concepte d'equació de 2n grau

Una **equació de segon grau** és una equació polinòmica en la que la major potència de la incògnita és 2. Les equacions de segon grau es poden escriure de la forma:

$$ax^2 + bx + c = 0$$

on a, b i c són nombres reals, amb $a \neq 0$.

Exemple 1:

- Són equacions de 2n grau per exemple $3x^2 - 7x + 1 = 0$; $-2x^2 + 5x - 2 = 0$; $x^2 - 9x - 11 = 0$.

Exemple 2:

- Els coeficients de les equacions de 2n grau són nombres reals, per tant poden ser fraccions o arrels. Per exemple:

$$\frac{3}{5}x^2 - 4x + \frac{1}{2} = 0; \quad \frac{1}{3}x^2 - \frac{2}{5}x + \frac{3}{4} = 0; \quad -2,7x^2 + 3,5x - 0,2 = 0; \quad \sqrt{2}x^2 + 3x - \sqrt{5} = 0.$$

Activitats proposades

5. Indica si són equacions de segon grau les equacions següents:

a) $5x^2 - \sqrt{2}x + 8 = 0$

c) $8x^2 - 9 = 0$

e) $2x^2 - \frac{3}{x} = 0$

b) $3xy^2 - 5 = 0$

d) $8 - 7,3x = 0$

f) $2x^2 - 3\sqrt{x} + 4 = 0$

6. En les següents equacions de segon grau, indica qui són a, b i c .

a) $3 - 4x^2 + 9x = 0$

b) $-3x^2 + 5x = 0$

c) $2x^2 - 3 = 0$

d) $x^2 - 8x + 1 = 0$

2.2. Resolució d'equacions de 2n grau completes

S'anomena **equació de segon grau completa** a aquella que té valors diferents de zero para a , b i c .

Per a resoldre les equacions de segon grau completes, emprarem la fórmula:

$$x = \frac{-b \pm \sqrt{b^2 - 4ac}}{2a}$$

Aquesta fórmula ens permet calcular les dues solucions de la nostra equació.

Anomenarem **discriminant** a la part de la fórmula que està a l'interior de l'arrel:

$$\Delta = b^2 - 4ac$$

Activitats resoltes

- Resol l'equació de segon grau $x^2 - 5x + 6 = 0$

Primer hem de saber qui són a , b i c :

$$a = 1; b = -5; c = 6$$

Substituint aquests valors en la nostra fórmula, obtenim:

$$x = \frac{-b \pm \sqrt{b^2 - 4ac}}{2a} = \frac{5 \pm \sqrt{25 - 4 \cdot 1 \cdot 6}}{2 \cdot 1} = \frac{5 \pm \sqrt{25 - 24}}{2} = \frac{5 \pm 1}{2}$$

Per tant, les nostres dues solucions són:

$$x_1 = \frac{5+1}{2} = 3; \quad x_2 = \frac{5-1}{2} = 2$$

En efecte, $3^2 - 5 \cdot 3 + 6 = 9 - 15 + 6 = 0$, y $2^2 - 5 \cdot 2 + 6 = 4 - 10 + 6 = 0$, doncs 3 i 2 són solucions de l'equació.

Activitats proposades

7. Resol les següents equacions de 2n grau completes:

a) $x^2 - 7x + 10 = 0$ b) $2x^2 + 2x - 24 = 0$

c) $3x^2 - 9x + 6 = 0$ d) $x^2 - 4x - 12 = 0$

2.3. Nombre de solucions d'una equació de 2n grau completa

Abans hem definit el que era el **discriminant**, et recordes?

$$\Delta = b^2 - 4ac$$

Per a saber quantes solucions té una equació de 2n grau, ens anem a fixar en el signe del discriminant.

Si $\Delta = b^2 - 4ac > 0$ l'equació té dues solucions reals i distintes.

Si $\Delta = b^2 - 4ac = 0$, l'equació té dues solucions reals iguals, (una solució doble).

Si $\Delta = b^2 - 4ac < 0$, l'equació no té solució.

Exemple 3:

a) L'equació $2x^2 - 4x - 7 = 0$ té com a discriminant:

$$\Delta = b^2 - 4ac = (-4)^2 - 4 \cdot 2 \cdot (-7) = 16 + 28 = 44 > 0$$

Per tant, l'equació donada té 2 solucions reals i distintes, 5 i -1. (Comprovació: $5^2 - 4 \cdot 5 - 7 = 25 - 20 - 7 = 0$ i $(-1)^2 - 4(-1) - 7 = 1 + 4 - 7 = 0$).

b) L'equació $x^2 - 2x + 1 = 0$ té com a discriminant:

$$\Delta = b^2 - 4ac = (-2)^2 - 4 \cdot 1 \cdot 1 = 4 - 4 = 0$$

Per tant, l'equació té dues solucions reals iguals. Es pot escriure com:

$$x^2 - 2x + 1 = (x - 1)^2 = 0, \text{ que té la solució doble } x = 1.$$

c) L'equació $x^2 + 3x + 8 = 0$ té com a discriminant

$$\Delta = b^2 - 4ac = (3)^2 - 4 \cdot 1 \cdot (8) = 9 - 32 = -23 < 0$$

Per tant, l'equació no té solució real. Cap nombre real verifica l'equació.

Activitats proposades

8. Esbrina quantes solucions tenen les següents equacions de 2n grau:

a) $x^2 + x + 4 = 0$ b) $x^2 - 6x + 9 = 0$

c) $x^2 - 6x - 7 = 0$ d) $x^2 - 3x + 5 = 0$

2.4. Resolució d'equacions de 2n grau incompletes

Anomenem **equació de 2n grau incompleta** a aquella equació de segon grau en què el coeficient b val 0 (falta b), o el coeficient c val 0 (falta c).

Exemple 4:

L'equació de 2n grau $2x^2 - 0 = 0$ és incompleta perquè el coeficient $b = 0$, és a dir, falta b . L'equació de 2n grau $3x^2 - 0 = 0$ és incompleta perquè no té c , és a dir, $c = 0$.

Les equacions de 2n grau incompletes es resolen d'una manera o una altra depenent del tipus que siguin.

Si el coeficient $b = 0$: Aïllem la incògnita normalment, com féiem en les equacions de primer grau:

$$ax^2 + c = 0 \Rightarrow ax^2 = -c \Rightarrow x^2 = \frac{-c}{a} \Rightarrow \sqrt{x^2} = \sqrt{\frac{-c}{a}} \Rightarrow x = \pm \sqrt{\frac{-c}{a}}$$

Si el coeficient $c = 0$: Traiem factor comú:

$$ax^2 + bx = 0 \Rightarrow x(ax + b) = 0.$$

Perquè el producte de dos factors siga zero, un dels factors ha de valdre zero.

$$\text{Per tant } x = 0, \text{ o } ax + b = 0 \Rightarrow ax = -b \Rightarrow x = \frac{-b}{a}$$

Exemple 5:

En l'equació $2x^2 - 18 = 0$ falta la b . Per a resoldre-la aïllem la incògnita, és a dir, x^2 :

$$2x^2 - 18 = 0 \Rightarrow 2x^2 = 18 \Rightarrow x^2 = 18/2 = 9$$

Una vegada que arribem aquí, ens falta llevar aqueix quadrat que porta nostra incògnita. Per a això, farem l'arrel quadrada als 2 membres de l'equació:

$$x = \pm\sqrt{9} = \pm 3$$

Així hem obtingut les dues solucions de la nostra equació, 3 i -3 . En efecte, $2 \cdot 3^2 - 18 = 2 \cdot 9 - 18 = 0$, i $2 \cdot (-3)^2 - 18 = 2 \cdot 9 - 18 = 0$

Resum

Si $b = 0$, $ax^2 + c = 0$, Aïllem la incògnita:

Si $c = 0$, $ax^2 + bx = 0$, traiem factor comú:

$$x = 0 \text{ i}$$

Exemple 6:

En l'equació $3x^2 - 15x = 0$ falta la c . Per a resoldre-la, traiem factor comú:

$$3x^2 - 15x = 0 \Rightarrow 3x(x - 5) = 0$$

Una vegada que arribem ací, tenim dues opcions

$$1) 3x = 0 \Rightarrow x = 0.$$

$$2) x - 5 = 0 \Rightarrow x = 5.$$

Així hem obtingut les dues solucions de l'equació $x = 0$ i $x = 5$

Una equació de segon grau incompleta també es pot resoldre utilitzant la fórmula de les completes però és un procés més lent i és més fàcil equivocar-se.

Activitats resoltes

- Resol l'equació de 2n grau $2x^2 - 32 = 0$:

Solució: Es tracta d'una equació de 2n grau incompleta on falta la b . Per tant, aïllem la incògnita

$$2x^2 - 32 = 0 \Rightarrow 2x^2 = 32 \Rightarrow x^2 = 32/2 = 16 \Rightarrow x = \pm\sqrt{16} = \pm 4. \text{ Les arrels són } 4 \text{ i } -4.$$

- Resol l'equació de 2n grau $x^2 + 7x = 0$:

Solució: Es tracta d'una equació de 2n grau incompleta on falta la c . Per tant, traiem factor comú:

$$x^2 + 7x = 0 \Rightarrow x(x + 7) = 0$$

i obtenim les dues solucions:

$$x = 0 \text{ i } x + 7 = 0 \Rightarrow x = -7.$$

Activitats proposades

9. Resol les següents equacions de 2n grau incompletes:

$$a) 3x^2 + 6x = 0$$

$$b) 3x^2 - 27 = 0$$

$$c) x^2 - 25 = 0$$

$$d) 2x^2 + x = 0$$

$$e) 4x^2 - 9 = 0$$

$$f) 5x^2 - 10x = 0$$

2.5. Suma i producte d'arrels

Si en una equació de segon grau: $x^2 + bx + c = 0$, amb $a = 1$, coneixem les seues solucions: x_1 i x_2 sabem que podem escriure l'equació de forma factoritzada:

$$(x - x_1) \cdot (x - x_2) = 0$$

Fem operacions:

$$x^2 - x_1 \cdot x - x_2 \cdot x + x_1 \cdot x_2 = 0 \Rightarrow x^2 - (x_1 + x_2) \cdot x + x_1 \cdot x_2 = 0,$$

pel que el coeficient c és igual al producte de les solucions i la suma de les solucions és igual a l'oposat del coeficient b , és a dir, $-b$.

$$x_1 \cdot x_2 = \frac{c}{a}; x_1 + x_2 = -b.$$

Si l'equació és $ax^2 + bx + c = 0$, dividint per a , ja tenim una de coeficient $a = 1$, i obtenim que:

$$x_1 x_2 = \frac{c}{a}; x_1 + x_2 = \frac{-b}{a}$$

Aquesta propietat ens permet, de vegades, resoldre mentalment algunes equacions de segon grau.

Activitats resoltes

- Resol mentalment l'equació $x^2 - 5x + 6 = 0$.

Busquem, mentalment dos números el producte del qual siga 6 i la suma del qual siga 5. En efecte, $2 \cdot 3 = 6$, i $2 + 3 = 5$, doncs les solucions de l'equació són 2 i 3.

- Resol mentalment l'equació $x^2 - 6x + 9 = 0$.

El producte ha de ser 9. Provem amb 3 com a solució, i en efecte $3 + 3 = 6$. Les solucions són l'arrel 3 doble.

- Resol mentalment l'equació $x^2 - x - 2 = 0$.

Les solucions són -1 i 2 , perquè el seu producte és -2 i la seua suma 1 .

- Resol mentalment l'equació $x^2 + x - 2 = 0$.

Les solucions són 1 i -2 , perquè el seu producte és -2 i la seua suma -1 .

Activitats proposades

10. Resol mentalment les següents equacions de 2n grau:

a) $x^2 + 6x = 0$

b) $x^2 + 2x - 8 = 0$

c) $x^2 - 25 = 0$

d) $x^2 - 9x + 20 = 0$

e) $x^2 - 3x - 4 = 0$

f) $x^2 - 4x - 21 = 0$

11. Escriu una equació de segon grau les solucions de la qual siguen 3 i 7.

12. El perímetre d'un rectangle mesura 16 cm i la seua àrea 15 cm². Calcula les seues dimensions.

13. Si 3 és una solució de $x^2 - 5x + a = 0$, quant val a ?

2.6. Resolució d'equacions senzilles de grau superior a dos

Durant segles els algebristes han buscat fórmules, com la que ja coneixes de l'equació de segon grau, que resolguera les equacions de tercer grau, de quart, de cinqué... sense èxit a partir del cinqué grau. Les fórmules per a resoldre les equacions de tercer i quart grau són complicades. Només sabem resoldre de forma senzilla algunes d'aquestes equacions.

Exemple:

- Resol: $(x - 5) \cdot (x - 3) \cdot (x + 2) \cdot (x - 9) \cdot (x - 6) = 0$.

És una **equació polinòmica** de grau cinc, però en estar factoritzada sabem resoldre-la ja que per a que el producte de diversos factors siga zero, un d'ells ha de valdre zero. Igualant a zero cada factor tenim que les solucions són 5, 3, -2, 9 i 6.

Equacions biquadrades

Una **equació biquadrada** és una equació de la forma $ax^{2n} + bx^n + c = 0$.

Per a resoldre-la, fem el canvi $x^n = t$, convertint-la així en una equació de segon grau de fàcil resolució.

Quan hàgem calculat el valor de t , desfem el canvi efectuat, $x = \sqrt[n]{t}$ per a obtindre la solució x .

Les equacions biquadrades més comuns són les de quart grau

Exemple:

- Per a resoldre l'equació biquadrada $x^4 - 10x^2 + 9 = 0$, fem el canvi obtenint l'equació de segon grau $t^2 - 10t + 9 = 0$.

Resolem la dita equació de segon grau:

$$t = \frac{10 \pm \sqrt{(-10)^2 - 4 \cdot 1 \cdot 9}}{2 \cdot 1} = \frac{10 \pm 8}{2}$$

$$t_1 = \frac{10+8}{2} = 9 \quad t_2 = \frac{10-8}{2} = 1$$

Desfem el canvi per a obtindre els valors de x :

$$\text{Si } t_1=9 \rightarrow x = \pm\sqrt{9} = \pm 3$$

$$\text{Si } t_2=1 \rightarrow x = \pm\sqrt{1} = \pm 1$$

Activitats resoltes

L'equació $x^4 - 5x^2 + 4 = 0$ és una equació polinòmica de quart grau, però amb una forma molt especial, és una equació **biquadrada**, perquè podem transformar-la en una equació de segon grau anomenant a x^2 per exemple, t .

$$x^4 - 5x^2 + 4 = 0 \Rightarrow t^2 - 5t + 4 = 0 \Rightarrow t = \frac{5 \pm \sqrt{25 - 16}}{2} = \frac{5 \pm \sqrt{9}}{2} = \frac{5 \pm 3}{2}$$

Una solució de l'equació de segon grau és $t = 4$, i l'altra és $t = 1$.

Per tant si $t = x^2 = 4$, doncs $x = 2$ i $x = -2$.

I si $t = x^2 = 1$, doncs $x = 1$ i $x = -1$.

La nostra equació de quart grau té quatre solucions:

$$2, -2, 1 \text{ i } -1.$$

Activitats proposades

14. Resol les equacions següents:

a) $(x - 7) \cdot (x - 2) \cdot (x + 5) \cdot (x - 3) \cdot (x - 11) = 0$ b) $3(x - 5) \cdot (x - 7) \cdot (x + 2) \cdot (x - 3) \cdot (x - 4) = 0$

15. Resol les següents equacions biquadrades:

a) $x^4 - 3x^2 + 2 = 0$ b) $x^4 + 12x^2 + 35 = 0$ c) $x^4 - 4x^2 - 12 = 0$.

16. Resol les equacions biquadrades següents:

a) $x^4 - 13x^2 + 36 = 0$ b) $x^4 - 29x^2 + 100 = 0$ c) $x^4 - 10x^2 + 9 = 0$ d) $x^4 - 26x^2 + 25 = 0$.

3. SISTEMES D'EQUACIONS LINEALS

3.1. Concepte de sistema d'equacions lineals

Un **sistema d'equacions lineals** amb dues incògnites es pot expressar de la forma:

$$\begin{cases} ax + by = c \\ a'x + b'y = c' \end{cases}$$

On a , b , a' i b' són nombres reals que es denominen **coeficients** i c i c' també són nombres reals denominats **termes independents**.

Anomenem **solució** del sistema al parell de valors (x, y) que satisfan les dues equacions del sistema.

Es diu que dos sistemes d'equacions són **equivalents**, quan tenen la mateixa solució.

Exemple 7:

Són sistemes d'equacions lineals, per exemple:

$$\begin{cases} 3x - 4y = -1 \\ 2x + 5y = 7 \end{cases}; \quad \begin{cases} 5x + 2y = 7 \\ x - y = 0 \end{cases}; \quad \begin{cases} x + 2y = 3 \\ 7x - 3y = 4 \end{cases}; \quad \begin{cases} 4y + 2 = 3x \\ 7x - 3 = 5y \end{cases}$$

Exemple 8:

No és un sistema lineal $\begin{cases} 3xy + 5y = 7 \\ 4x - 8xy = 9 \end{cases}$ perquè té termes en xy .

Tampoc ho és $\begin{cases} 3x^2 + 5y = 7 \\ 4x - 8y = 9 \end{cases}$ perquè té un terme en x^2 .

Activitats proposades

17. Raona si són o no sistemes d'equacions lineals els sistemes següents:

$$\begin{array}{ll} \text{a) } \begin{cases} xy + 2y = 6 \\ 2x - 3y = 1 \end{cases} & \text{b) } \begin{cases} 5y - x = 4 \\ 2x - 3y = -1 \end{cases} \\ \text{c) } \begin{cases} 4x - 2 = y \\ 3x + 5y = 2 \end{cases} & \text{d) } \begin{cases} x^2 + y = 2 \\ 3x + y^2 = 4 \end{cases} \end{array}$$

3.2. Classificació de sistemes d'equacions

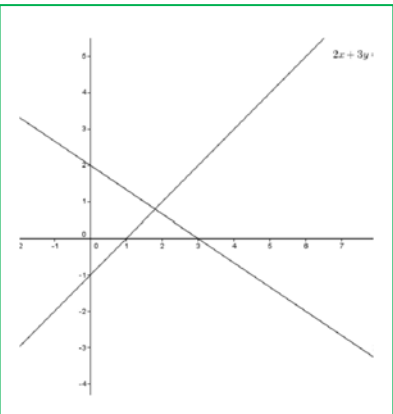
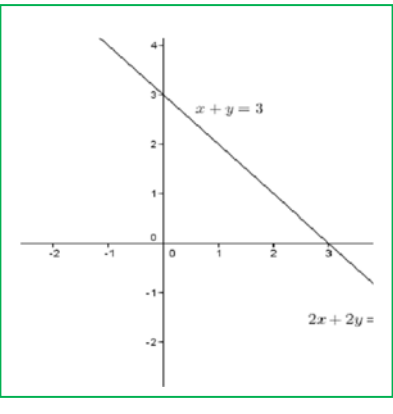
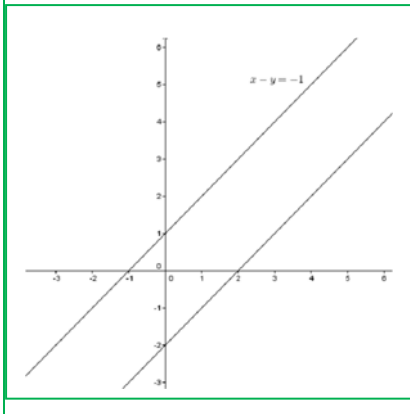
En un sistema d'equacions lineals amb dues incògnites, cada una de les equacions representa una recta al pla.

Aquestes rectes poden estar posicionades entre si de tres maneres distintes, la qual cosa ens ajudarà a classificar el nostre sistema en:

1) **Compatible determinat**: el sistema té una única solució, per la qual cosa les rectes són **SECANTS**, es tallen en un punt.

2) **Compatible indeterminat**: el sistema té infinites solucions, per la qual cosa les rectes són **COINCIDENTS**.

3) **Incompatible**: el sistema no té solució, per la qual cosa les rectes són **PARAL·LELES**.

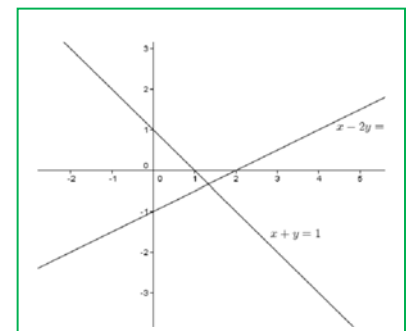
		
Compatible determinat	Compatible indeterminat	Incompatible
Rectes secants	Rectes coincidents	Rectes paral·leles

Activitats resoltes

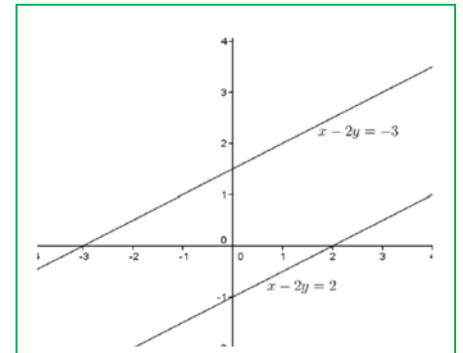
- Afig una equació a $x - 2y = 2$ perquè el sistema resultant siga:
 - Compatible determinat
 - Incompatible
 - Compatible indeterminat

Solució:

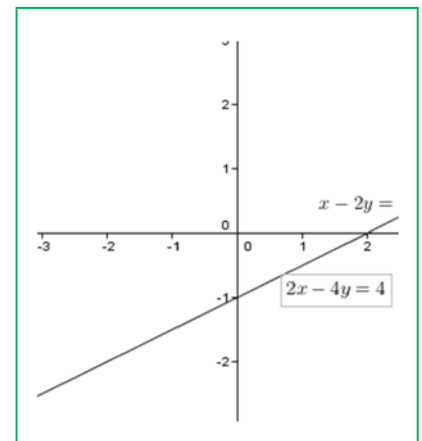
a) Perquè el sistema siga compatible determinat, afegirem una equació que no tinga els mateixos coeficients que la que ens donen. Per exemple, $x + y = 1$.



b) Perquè siga incompatible, els coeficients de les incògnites han de ser els mateixos (o proporcionals) però tindre diferent terme independent. Per exemple $x - 2y = -3$, (o $2x - 4y = 0$).



c) Perquè siga compatible indeterminat, posarem una equació proporcional a la que tenim. Per exemple $2x - 4y = 4$.



Activitats proposades

18. Representa els següents sistemes i classifica'ls:

a) $\begin{cases} x + 3y = 4 \\ -2x + y = -1 \end{cases}$ b) $\begin{cases} 2x - y = 3 \\ -y + 2x = 1 \end{cases}$ c) $\begin{cases} x - 3y = 3 \\ 2x - 6y = 6 \end{cases}$

3.3. Resolució de sistemes pel mètode de substitució

El **mètode de substitució** consisteix a aïllar una incògnita d'una de les equacions del sistema i substituir l'expressió obtinguda en l'altra equació.

Així, obtenim una equació de primer grau en què podem calcular la incògnita aïllada. Amb el valor obtingut, obtenim el valor de l'altra incògnita.

Exemple 8:

Resoldrem el sistema $\begin{cases} 2x - 3y = -1 \\ x + 2y = 3 \end{cases}$ pel mètode de substitució:

Aïllem x de la segona equació:

$$\begin{cases} 2x - 3y = -1 \\ x + 2y = 3 \Rightarrow x = 3 - 2y \end{cases}$$

i la substituïm en la primera:

$$2(3 - 2y) - 3y = -1 \Rightarrow 6 - 4y - 3y = -1 \Rightarrow -4y - 3y = -1 - 6 \Rightarrow -7y = -7 \Rightarrow y = (-7)/(-7) = 1$$

Amb el valor obtingut de y , calculem la x :

$$x = 3 - 2y \Rightarrow x = 3 - 2 \cdot 1 = 1.$$

Solució:

$$\begin{cases} x = 1 \\ y = 1 \end{cases}$$

Activitats proposades

19. Resol els següents sistemes pel mètode de substitució:

$$\text{a) } \begin{cases} 3x + 4y = -7 \\ x - 2y = 1 \end{cases} \quad \text{b) } \begin{cases} 2x + 4y = 0 \\ 3x + y = 5 \end{cases} \quad \text{c) } \begin{cases} 3x - 2y = 2 \\ 2x + 3y = 10 \end{cases}$$

3.4. Resolució de sistemes pel mètode d'igualació

El **mètode d'igualació** consisteix aïllar la mateixa incògnita de les dues equacions que formen el sistema i igualar els resultats obtinguts.

Així, obtenim una equació de primer grau en què podem calcular la incògnita aïllada. Amb el valor obtingut, calculem el valor de l'altra incògnita.

Exemple 8:

Resoldrem el sistema $\begin{cases} 2x - 3y = -1 \\ x + 2y = 3 \end{cases}$ pel mètode d'igualació:

Aïllem la mateixa incògnita de les dues equacions que formen el sistema:

$$\begin{cases} 2x - 3y = -1 \Rightarrow x = \frac{3y - 1}{2} \\ x + 2y = 3 \Rightarrow x = 3 - 2y \end{cases}$$

Igualem ara els resultats obtinguts i resollem l'equació resultant:

$$\frac{3y - 1}{2} = 3 - 2y \Rightarrow 3y - 1 = 2(3 - 2y) = 6 - 4y \Rightarrow 3y + 4y = 6 + 1 \Rightarrow 7y = 7 \Rightarrow y = \frac{7}{7} = 1$$

Amb el valor obtingut de y , calculem la x :

$$x = 3 - 2y \Rightarrow x = 3 - 2 \cdot (1) = 1$$

Solució:

$$\begin{cases} x = 1 \\ y = 1 \end{cases}$$

Activitats proposades

20. Resol els següents sistemes pel mètode d'igualació:

$$\text{a) } \begin{cases} 3x + y = 2 \\ -2x + 3y = -5 \end{cases} \quad \text{b) } \begin{cases} 2x - 3y = -5 \\ 4x + 2y = 14 \end{cases} \quad \text{c) } \begin{cases} 7x - 4y = 3 \\ 3x + 2y = 5 \end{cases}$$

3.5. Resolució de sistemes pel mètode de reducció

El **mètode de reducció** consisteix a eliminar una de les incògnites sumant les dues equacions. Per a això es multipliquen una o ambdues equacions per un nombre de manera que els coeficients de x o y siguin iguals però de signe contrari.

Exemple 9:

Resoldrem el sistema $\begin{cases} 2x - 3y = -1 \\ x + 2y = 3 \end{cases}$ pel mètode de reducció:

Multipliquem la segona equació per -2 perquè els coeficients de la x siguin iguals però de signe contrari i sumem les equacions obtingudes:

$$\begin{cases} 2x - 3y = -1 \\ x + 2y = 3 \end{cases} \xrightarrow{(-2)} \begin{cases} 2x - 3y = -1 \\ -2x - 4y = -6 \end{cases} \xrightarrow{\text{sumem}} -7y = -7 \Rightarrow y = (-7)/(-7) = 1$$

Amb el valor obtingut de y , calculem la x :

$$2x - 3 \cdot 1 = -1 \Rightarrow 2x = -1 + 3 = 2 \Rightarrow x = 2/2 = 1$$

Solució:

$$\begin{cases} x = 1 \\ y = 1 \end{cases}$$

Activitats proposades

21. Resol els següents sistemes pel mètode de reducció:

$$\text{a) } \begin{cases} 3x + y = 4 \\ 2x - 5y = 14 \end{cases} \quad \text{b) } \begin{cases} 5x + 3y = 2 \\ 4x + y = 7 \end{cases} \quad \text{c) } \begin{cases} 2x + 3y = 0 \\ 3x - 2y = 13 \end{cases}$$

4. RESOLUCIÓ DE PROBLEMES

4.1. Resolució de problemes mitjançant equacions de primer grau

Ja saps que:

Molts problemes poden resoldre's mitjançant una equació.

Activitats resoltes

- Busca un nombre que sumat amb el seu següent done com resultat 15.

Per a resoldre-lo seguirem tècniques generals de resolució de problemes:

Pas 1: Abans de començar a actuar, intenta entendre bé el problema

Llig amb molt atenció l'enunciat, i pregunta't:

Què et demanen? Quines dades tens?

Ens demanen un nombre. La **incògnita** és aqueix nombre. Anomena a aqueix nombre x . El seu següent, serà $x + 1$. Ens diuen que la suma d'ambdós és 15.

Pas 2: Busca una bona estratègia.

És un problema que volem resoldre mitjançant una equació. Escriu en llenguatge algebraic l'enunciat del problema i planteja una equació:

$$x + (x + 1) = 15.$$

Pregunta't si efectivament resol el problema rellegant l'enunciat.

Pas 3: Porta avant la teua estratègia

Ara sí, ara resol l'equació. Per resoldre una equació convé seguir un orde d'actuació que ens ajude a no cometre errors, per a això seguim el procediment que acabem d'aprendre.

- Lleva, si n'hi ha, parèntesi i denominadors: $x + x + 1 = 15$.
- Per a posar en el primer membre els termes amb x , i al segon els que no la tenen, **fes el mateix als dos costats**, resta 1 als dos membres: $x + x + 1 - 1 = 15 - 1$, aleshores $x + x = 15 - 1$.

Opera: $2x = 14$. Aïlla:

- Per aïllar la x , es fa el mateix als dos costats, es divideixen per 2 ambdós membres:

$$2x/2 = 14/2, \text{ per tant, } x = 7.$$

Pas 4: Comprova el resultat. Pensa si és raonable.

En efecte, comprova que: $7 + 8 = 15$.

Activitats proposades

22. A un xicotet hotel hi ha 47 habitacions simples i dobles. Si en total té 57 llits, quantes habitacions són simples i quantes són dobles?
23. A una granja hi ha 100 animals entre gallines i conills, i entre tots els animals sumen 280 potes. Quantes gallines hi ha a la granja?

4.2. Resolució de problemes mitjançant equacions de 2n grau

Per a resoldre problemes per mitjà d'equacions de 2n grau, de la mateixa manera que els problemes d'equacions de primer grau, primer haurem de passar a llenguatge algebraic l'enunciat del problema i després resoldre'l seguint els passos següents:

- 1.- Comprendre l'enunciat
- 2.- Identificar la incògnita
- 3.- Traduir l'enunciat al llenguatge algebraic
- 4.- Plantejar l'equació i resoldre-la
- 5.- Comprovar la solució obtinguda

Activitats resoltes

Resoldrem el problema següent:

- *Quin és el nombre natural el quíntuple del qual augmentat en 6 és igual al seu quadrat?*

Una vegada comprés l'enunciat, identifiquem la incògnita, que en aquest cas, és el nombre que estem buscant.

2.- Nombre buscat = x

3.- Traduím ara el problema al llenguatge algebraic:

$$5x + 6 = x^2$$

4.- Resolem l'equació:

$$5x + 6 = x^2 \Rightarrow x^2 - 5x - 6 = 0$$

$$x = \frac{-b \pm \sqrt{b^2 - 4ac}}{2a} = \frac{-(-5) \pm \sqrt{(-5)^2 - 4 \cdot 1 \cdot (-6)}}{2 \cdot 1} = \frac{5 \pm \sqrt{25 + 24}}{2} = \frac{5 \pm \sqrt{49}}{2} = \frac{5 \pm 7}{2}$$

$$x_1 = \frac{5+7}{2} = 6; \quad x_2 = \frac{5-7}{2} = -1$$

Solució: Com l'enunciat diu "nombre natural" el nombre buscat és el 6.

5.- *Comprovació:* En efecte $5 \cdot 6 + 6 = 36 = 6^2$.

Activitats proposades

24. Quin nombre multiplicat per 3 és 40 unitats menor que el seu quadrat?
25. Calcula tres nombres consecutius tals que la suma dels seus quadrats siga 365.
26. El triple del quadrat d'un nombre augmentat en el seu doble és 85. Quin és el nombre?
27. Un triangle isòsceles té un perímetre de 20 cm i la base mesura 4 cm, calcula els costats del triangle i la seua àrea.

4.3. Resolució de problemes mitjançant sistemes d'equacions

Per a resoldre problemes per mitjà de sistemes d'equacions, primer haurem de passar a llenguatge algebraic l'enunciat del problema i després resoldre'l seguint els passos següents:

- 1.- Comprendre l'enunciat
- 2.- Identificar les incògnites
- 3.- Traduir l'enunciat al llenguatge algebraic
- 4.- Plantejar el sistema i resoldre'l
- 5.- Comprovar la solució obtinguda

Activitats resoltes

Resoldrem el problema següent:

- *La suma de les edats d'un pare i el seu fill és 39 i la seua diferència 25. Quina és l'edat de cada un?*

Una vegada comprés l'enunciat, identifiquem les incògnites que, en aquest cas, són l'edat del pare i el fill

2.- Edat del pare = x

Edat del fill = y

3.- Passem l'enunciat a llenguatge algebraic:

La suma de les seues edats és 39:

$$x + y = 39$$

I la seua diferència 25:

$$x - y = 25$$

4.- Plantegem el sistema i el resollem pel mètode que ens resulte més senzill. En aquest cas, ho fem per reducció:

$$\begin{cases} x + y = 39 \\ x - y = 25 \end{cases} \xrightarrow{\text{sumem}} 2x = 64 \Rightarrow x = 64/2 = 32$$

$$x + y = 39 \Rightarrow 32 + y = 39 \Rightarrow y = 39 - 32 = 7.$$

Solució: El pare té 32 anys i el fill té 7 anys.

5.- Comprovació: En efecte, la suma de les edats és $32 + 7 = 39$ i la diferència és $32 - 7 = 25$.

Activitats proposades

28. La suma de les edats de Raquel i Lluís són 65 anys. L'edat de Lluís més quatre vegades l'edat de Raquel és igual a 104. Quina edat tenen cada un?
29. La suma de les edats de Maria i Albert és 32 anys. D'ací a 8 anys, l'edat d'Albert serà dues vegades l'edat de Maria. Quina edat té cada un en l'actualitat?
30. Troba dos nombres la diferència dels quals siga 24 i la seua suma siga 123.

CURIOSITATS. REVISTA

Obtenció de la fórmula per a resoldre equacions de segon grau.

$$ax^2 + bx + c = 0, \text{ amb } a \neq 0$$

⇓

$$ax^2 + bx = -c$$

⇓ Multipliquem per $4a$

$$4a^2x^2 + 4abx = -4ac$$

⇓ Sumem b^2

$$4a^2x^2 + 4abx + b^2 = -4ac + b^2$$

⇓ Completem quadrats

$$(2ax + b)^2 = b^2 - 4ac$$

⇓ Trobem l'arrel quadrada

$$2ax + b =$$

⇓ Aïllem la x

$$2ax =$$

⇓

$$x =$$



Emmy Noether va ser una matemàtica alemanya d'origen jueu els treballs del qual en Àlgebra van permetre resoldre el problema de la conservació de l'energia.

Tres equacions de segon grau interessants

$$x^2 = 2$$

Aquesta equació ens apareix en aplicar el Teorema de Pitàgores a un triangle rectangle isòscele de costats iguals a 1, o en calcular la diagonal d'un quadrat de costat 1. La seua solució és la longitud de la hipotenusa o de la diagonal. Té d'interessant que es demostra que la dita solució NO és un nombre racional, un nombre que puga escriure's com a quocient de dos nombres enters.

$$x + 1 = x^2$$

També es pot escribir com:

que és una proporció, on x pren el valor

$\approx 1,618\dots$ que és el nombre d'or, altre nombre irracional.

$$x^2 = -1$$

La tercera equació no té solució real, cap nombre real al elevar-lo al quadrat pot donar un nombre negatiu, però si ampliem el camp real amb la seua arrel, i , resulta que ja totes les equacions de segon grau tenen solució, i a els nombres $a + b \cdot i$ se'ls anomena **nombres complexos**.

RESUM

Equació de primer grau	És una equació algebraica en què la major potència de la incògnita és 1.	$-5x + 6 = 0$
Equació de segon grau	És una equació algebraica en què la major potència de la incògnita és 2. Té la forma: $ax^2 + bx + c = 0$ on a, b i c són nombres reals, amb $a \neq 0$.	$-3x^2 + 7x + -8 = 0$
Resolució d'equacions de 2n grau completes	S'usa la fórmula: $x = \frac{-b \pm \sqrt{b^2 - 4ac}}{2a}$	$x^2 - 5x + 6 = 0:$ $x = \frac{5 \pm \sqrt{25 - 4 \cdot 1 \cdot 6}}{2 \cdot 1}$ $= \frac{5 \pm 1}{2}$ $x_1 = 3, x_2 = 2$
Discriminant	$\Delta = b^2 - 4ac$	$\Delta = (-5)^2 - 4 \cdot 1 \cdot 6 = 25 - 24 = 1$
Nombre de solucions d'una equació de 2n grau	Si $\Delta = b^2 - 4ac > 0$, té dues solucions reals i distintes Si $\Delta = b^2 - 4ac = 0$, té una solució doble. Si $\Delta = b^2 - 4ac < 0$, l'equació no té solució	$x^2 - 4x - 5 = 0: \Delta = 36 > 0$, té dues solucions 5 i -1. $x^2 - 2x + 1 = 0: \Delta = 0$, té una arrel doble: $x = 1$. $x^2 + 3x + 8 = 0: \Delta = -23$. No té solució real
Resolució d'equacions de 2º grau incompletes	Si $b = 0$, $ax^2 + c = 0$, aïllem la incògnita: $x = \pm \sqrt{\frac{-c}{a}}$ Si $c = 0$, $ax^2 + bx = 0: x = 0$ i $x = \frac{-b}{a}$	$2x^2 - 18 = 0: x = \pm\sqrt{9} = \pm 3$ $3x^2 - 15x = 0 \Rightarrow 3x(x - 5) = 0$ $\Rightarrow x_1 = 0; x_2 = 5$.
Suma i producte d'arrels	$x_1 x_2 = \frac{c}{a}; x_1 + x_2 = \frac{-b}{a}$	$x^2 - 5x + 6 = 0 \Rightarrow x_1 = 2; x_2 = 3$
Sistema d'equacions lineals	$\begin{cases} ax + by = c \\ a'x + b'y = c' \end{cases}$	$\begin{cases} x + 2y = 3 \\ 7x - 3y = 4 \end{cases}$
Classificació	Compatible determinat: Una única solució, el punt d'intersecció. Les rectes són secants : $\begin{cases} x + 3y = 4 \\ -2x + y = -1 \end{cases}$ Compatible indeterminat: Infinites solucions, per la qual cosa les rectes són coincidentes : $\begin{cases} x - 3y = 3 \\ 2x - 6y = 6 \end{cases}$ Incompatible: No té solució, les rectes són paral·leles : $\begin{cases} x - 3y = 3 \\ 2x - 6y = 2 \end{cases}$	
Mètodes de resolució	Substitució: aïllar una incògnita i substituir en l'altra equació. Igualació: aïllar la mateixa incògnita de les dues equacions. Reducció: sumar les dues equacions, multiplicant-les per nombres adequats.	

EXERCICIS I PROBLEMES**Equacions de primer grau**

1. Resol les següents equacions de 1r grau

a) $-x - 6x - 8 = 0$

b) $-1 + x = 6$

c) $7x = 70x + 5$

d) $2(x + 3) - (2x + 1) = 5$

e) $5(2x - 1) + (x - 1) = 5$

f) $12(x - 1) - 6(2 + x) = -18$

g) $(2x + 3) + (x - 1) = -x - 3$

h) $x + 2 = 2x + 168$

i) $6(2x - 3x + 1) - 2x - 1 = -$

1

2. Resol les següents equacions de 1r grau amb denominadors:

a) $\frac{x-1}{2} - \frac{x+1}{3} = 10$

b) $\frac{x-3}{3} + \frac{-x+1}{7} = 3$

c) $\frac{x+1}{5} + \frac{2x+6}{10} = 2$

d) $\frac{1-x}{2} + \frac{3x-1}{3} = \frac{1}{3}$

e) $\frac{2x-8}{5} - \frac{3x-9}{10} = x - 1$

f) $\frac{2x+3x}{5} - \frac{3x-6}{10} = 1$

Equacions de segon grau

3. Resol les següents equacions de 2n grau

a) $-x^2 - 6x - 8 = 0$

b) $x(-1 + x) = 6$

c) $7x^2 = 70x$

d) $2(x + 3) - x(2x + 1) = 5$

e) $5(2x - 1) + x(x - 1) = 5$

f) $12(x^2 - 1) - 6(2 + x) = -$

18

g) $(2x + 3) \cdot (x - 1) = -x - 3$

h) $x \cdot (x + 2) = 168$

i) $6(2x^2 - 3x + 1) - x(2x - 1) = -1$

4. Resol les següents equacions de 2n grau amb denominadors:

a) $\frac{x^2-1}{2} - \frac{x+1}{3} = 10$

b) $\frac{x^2-3}{3} + \frac{x^2-x+1}{7} = 3$

c) $\frac{x^2+1}{5} + \frac{2x+6}{10} = 2$

d) $\frac{1-x^2}{2} + \frac{3x-1}{3} = \frac{1}{3}$

e) $\frac{2x^2-8}{5} - \frac{3x-9}{10} = x - 1$

f) $\frac{2x+3x^2}{5} - \frac{3x-6}{10} = 1$

5. Resol mentalment les següents equacions de 2n grau:

a) $x^2 - 7x + 10 = 0$

b) $x(-1 + x) = 0$

c) $2x^2 = 50$

d) $x^2 - 3x - 10 = 0$

e) $x^2 + 3x - 10 = 0$

f) $x^2 + 7x + 10 = 0$

g) $x^2 - 5x + 6 = 0$

h) $x^2 - x - 6 = 0$

i) $x^2 + x - 6 = 0$

6. Factoriza les equacions del problema anterior. Així, si les solucions són 2 i 5, escriu:

$$x^2 - 7x + 10 = 0 \Leftrightarrow (x - 2) \cdot (x - 5) = 0.$$

Observa que si el coeficient de x^2 fóra diferent d'1 els factors han d'estar multiplicats pel dit coeficient.

7. Quan el coeficient b és parell ($b = 2B$), pots simplificar la fórmula:

$$x = \frac{-b \pm \sqrt{b^2 - 4ac}}{2a} = \frac{-2B \pm \sqrt{4B^2 - 4ac}}{2a} = \frac{-2B \pm 2\sqrt{B^2 - ac}}{2a} = \frac{-B \pm \sqrt{B^2 - ac}}{a}$$

Així per a resoldre $x^2 - 6x + 8 = 0$ has de dir $x = 3 \pm \sqrt{9 - 8} = 3 \pm 1$, aleshores les seues solucions són 2 i 4.

Utilitza aqueixa expressió per a resoldre:

a) $x^2 - 8x - 12 = 0$ b) $x^2 - 10x + 24 = 0$ c) $x^2 + 4x + 7 = 0$

8. Resol mentalment les equacions següents, després desenrotlla les expressions i utilitza la fórmula general per a tornar a resoldre-les.

a) $(x - 2) \cdot (x - 6) = 0$ b) $(x + 1) \cdot (x - 3) = 0$ c) $(x - 9) \cdot (x - 3) = 0$
 d) $(x - 1) \cdot (x + 4) = 0$ e) $(x + 7) \cdot (x - 2) = 0$ f) $(x - 4) \cdot (x + 6) = 0$

9. Determina el nombre de solucions reals que tenen les següents equacions de segon grau calculant el seu discriminant, i després resol-les.

a) $x^2 + 3x - 4 = 0$ b) $7x^2 + 12x - 4 = 0$ c) $3x^2 + 7x + 10 = 0$
 d) $x^2 - x + 5 = 0$ e) $6x^2 - 2x - 3 = 0$ f) $5x^2 + 8x - 6 = 0$

10. Escriu tres equacions de segon grau que no tinguen cap solució real. *Ajuda:* Utilitza el discriminant.

11. Escriu tres equacions de segon grau que tinguen una solució doble.

12. Escriu tres equacions de segon grau que tinguen dues solucions reals i distintes.

13. Escriu tres equacions de segon grau que no tinguen solució real.

Sistemes lineals d'equacions

14. Resol els següents sistemes pel mètode de substitució:

a) $\begin{cases} 2x - 5y = -4 \\ 3x - y = 7 \end{cases}$ b) $\begin{cases} 3x + y = 4 \\ 2x + 5y = 7 \end{cases}$ c) $\begin{cases} 6x + 5y = 7 \\ 2x + 3y = 1 \end{cases}$

15. Resol els següents sistemes pel mètode d'igualació:

a) $\begin{cases} -2x + 3y = 13 \\ 3x - 7y = -27 \end{cases}$ b) $\begin{cases} 5x - 2y = -3 \\ 4x - y = 0 \end{cases}$ c) $\begin{cases} 9x - 5y = 4 \\ -8x + 3y = -5 \end{cases}$

16. Resol els següents sistemes pel mètode de reducció:

a) $\begin{cases} 3x - 5y = 1 \\ 2x + y = 5 \end{cases}$ b) $\begin{cases} 4x + 3y = 14 \\ -x - 6y = 7 \end{cases}$ c) $\begin{cases} 9x - 5y = 4 \\ -7x + 5y = -2 \end{cases}$

17. Resol de forma gràfica els següents sistemes

a) $\begin{cases} x + y = 7 \\ x - y = 1 \end{cases}$ b) $\begin{cases} 4x + 3y = 4 \\ x - 6y = 1 \end{cases}$ c) $\begin{cases} 9x - 5y = 13 \\ -7x + 5y = -9 \end{cases}$

18. Resol els següents sistemes pel mètode que cregues més apropiat:

$$\begin{array}{l} \frac{4x-1}{3} - \frac{2y+2}{5} = -1 \\ \text{a) } \left\{ \begin{array}{l} \frac{x+3}{2} + \frac{4y-1}{3} = 7 \end{array} \right. \end{array} \quad \begin{array}{l} \frac{3x-1}{2} - \frac{y+3}{5} = -3 \\ \text{b) } \left\{ \begin{array}{l} 3x + y = -1 \end{array} \right. \end{array} \quad \begin{array}{l} \frac{x+1}{2} + \frac{y+2}{3} = 2 \\ \text{c) } \left\{ \begin{array}{l} 3x - 2y = 1 \end{array} \right. \end{array}$$

19. Copia al teu quadern i completa els següents sistemes incomplets de manera que es complisca el que es demana en cada un:

Compatible indeterminat
 $y = 1$

Incompatible

La seua solució siga $x = 2$ i

$$\text{a) } \left\{ \begin{array}{l} ()x + 3y = () \\ 2x - y = 3 \end{array} \right.$$

$$\text{b) } \left\{ \begin{array}{l} -5x + y = 2 \\ ()x + y = 6 \end{array} \right.$$

$$\text{c) } \left\{ \begin{array}{l} 3x - y = () \\ ()x + y = 7 \end{array} \right.$$

Incompatible
indeterminat

La seua solució siga $x = -1$ i $y = 1$

Compatible

$$\text{d) } \left\{ \begin{array}{l} 2x - 5y = -1 \\ 4x + ()y = () \end{array} \right.$$

$$\text{e) } \left\{ \begin{array}{l} 3x + ()y = -1 \\ ()x + 3y = 5 \end{array} \right.$$

$$\text{f) } \left\{ \begin{array}{l} ()x + 6y = () \\ 2x + 3y = -2 \end{array} \right.$$

20. Escriu tres sistemes lineals que siguin incompatibles.

21. Escriu tres sistemes lineals que siguin compatibles indeterminats.

22. Escriu tres sistemes lineals que siguin compatibles determinats.

23. Resol els següents sistemes pel mètode d'igualació i comprova la solució gràficament. De quin tipus és cada sistema?

$$\begin{array}{l} \text{a) } \left\{ \begin{array}{l} -2x + 6y = 13 \\ x - 3y = 8 \end{array} \right. \quad \text{b) } \left\{ \begin{array}{l} x - y = -3 \\ 4x - 4y = -12 \end{array} \right. \quad \text{c) } \left\{ \begin{array}{l} x - y = 4 \\ -x + 3y = -5 \end{array} \right. \end{array}$$

Problemes

24. En una botiga lloguen bicicletes i tricicles. Si tenen 51 vehicles amb un total de 133 rodes, quantes bicicletes i quants tricicles tenen?

25. Quina és l'edat d'una persona si en multiplicar-la per 15 li falten 100 unitats per a completar el seu quadrat?

26. Descompon 8 en dos factors la suma del qual siga 6

27. El triple del quadrat d'un nombre augmentat en el seu doble és 85. Quin nombre és?

28. La suma dels quadrats de dos nombres imparells consecutius és 394. Determina els nombres.

29. Van carregats un ase i un mul. L'ase es queixava del pes que portava damunt. El mul li va contestar: Si jo portara un dels teus sacs, portaria el doble de càrrega que tu, però si tu prens un dels meus, els dos portarem la mateixa càrrega. Quants sacs porta cada un?

30. Quin nombre multiplicat per 3 és 40 unitats menor que el seu quadrat?

31. Calcula tres números consecutius la suma de quadrats del qual és 365



32. D'ací a 11 anys, l'edat de Mari serà la mitat del quadrat de l'edat que tenia fa 13 anys. Quina edat té Mari?
33. Dos nombres naturals es diferencien en 2 unitats i la suma dels seus quadrats és 580. Quins són els nombres?
34. La suma de dos nombres és 5 i el seu producte és -84 . De quins nombres es tracta?
35. Maria vol formar safates d'un quilogram amb massapans i mantegades. Si les mantegades li costen a 5 euros el quilo i els massapans a 7 euros el quilo, i vol que el preu de cada safata siga de 6 euros, quina quantitat haurà de posar de cada producte? Si vol formar 25 safates, Quina quantitat de mantegades i de massapans necessitarà?
36. Determina els catets d'un triangle rectangle la suma dels quals és 7 cm i la hipotenusa del triangle mesura 5 cm.
37. El producte de dos nombres és 4 i la suma dels seus quadrats 17. Calcula els nombres
38. La suma de dos nombres és 20. El doble del primer més el triple del segon és 45. De quins nombres es tracta?
39. A un garatge hi ha 30 vehicles entre cotxes i motos. Si en total hi ha 100 rodes, quants cotxes i motos hi ha al garatge?
40. L'edat actual de Pere és el doble de la de Raquel. D'ací a 10 anys, les seues edats sumaran 65. Quants anys tenen actualment Pere i Raquel?
41. A la meua classe hi ha 35 persones. Ens han regalat a cada xica 2 bolígrafs i a cada xic 1 quadern. Si en total hi havia 55 regals. Quants xics i xiques som a classe?
42. Entre el meu iaio i el meu germà tenen 56 anys. Si el meu iaio té 50 anys més que el meu germà, quina edat té cada un?
43. Dos entrepans i un refresc costen 5€. Tres entrepans i dos refrescos costen 8€. Quin és el preu de l'entrepà i el refresc?
44. A una granja hi ha pollastres i vaques. Si es compten els caps, són 50. Si es compten les potes, són 134. Quants pollastres i vaques hi ha a la granja?
45. Un rectangle té un perímetre de 172 metres. Si el llarg és 22 metres major que l'ample, quines són les dimensions del rectangle?
46. A una bossa hi ha monedes d'1€ i 2€. Si en total hi ha 40 monedes i 53€, quantes monedes de cada valor hi ha a la bossa?
47. A una baralla entre aranyes i vespes, hi ha 70 caps i 488 potes. Sabent que una aranya té 8 potes i una vespa 6, quantes vespes i aranyes hi ha a la baralla?
48. Una classe té 32 estudiants, i el nombre d'alumnes és triple al d'alumnes, quants xics i xiques hi ha?
49. Violant té 6 anys més que el seu germà Pablo, i sa mare té 49 anys. D'ací a 2 anys l'edat de la mare serà doble de la suma de les edats dels seus fills, Quines edats té?



AUTOAVALUACIÓ

1. Les solucions de l'equació $3(x^2 - 1) + 2(x^2 - 2x) = 9$ són:

a) $x = 2$ i $x = 1$ b) $x = 1$ i $x = -3$ c) $x = 1$ i $x = -2/3$ d) $x = 2$ i $x = -6/5$

2. Les solucions de l'equació $156 = x(x - 1)$ són:

a) $x = 11$ i $x = -13$ b) $x = 13$ i $x = -12$ c) $x = 10$ i $x = 14$ d) $x = -12$ i $x = -11$

3. Les solucions de l'equació són:

a) $x = 2$ i $x = 2/3$ b) $x = 1/3$ i $x = 4$ c) $x = 1$ i $x = 4/3$ d) $x = 5/3$ i $x = 3$

4. Les solucions de l'equació $(x - 14)^2 + x^2 = (x + 2)^2$ són:

a) $x = 24$ i $x = 8$ b) $x = 21$ i $x = 3$ c) $x = 5$ i $x = 19$ d) $x = 23$ i $x = 2$

5. Les solucions de l'equació $2(x + 2) - x(2 - x) = 0$ són:

a) Infinites b) $x = 9$ i $x = 5$ c) no té solució d) $x = 1$ i $x = 4$

6. Les rectes que formen el sistema són:

a) Secants b) Paral·leles c) Coincidents d) S'encreuen

7. La solució del sistema és:

a) $x = 2$ i $y = 1$ b) $x = 1$ i $y = 1$ c) $x = 3$ i $y = 2$ d) No té solució

8. La solució del sistema és:

a) $x = 4$ i $y = 2$ b) $x = 3$ i $y = 3$ c) $x = 2$ i $y = -1$ d) $x = 5$ i $y = 1$

9. A una granja, entre pollastres i porcs hi ha 27 animals i 76 potes. Quants pollastres i porcs hi ha a la granja?

a) 16 pollastres i 11 porcs b) 15 pollastres i 12 porcs c) 13 pollastres i 14 porcs

10. Quina és l'edat d'una persona si en multiplicar-la per 15, li falten 100 unitats per a arribar al seu quadrat?

a) 6 anys b) 7 anys c) 5 anys d) 8 anys